

Имя: _____

Дата: _____

Тема: _____



1

1.1. Запишите названия западных соседей России. Поставьте цифру рядом с названием, которой они обозначены на карте.



1.2. Заполните таблицу: “Западные соседи России”.

“Западные соседи России”

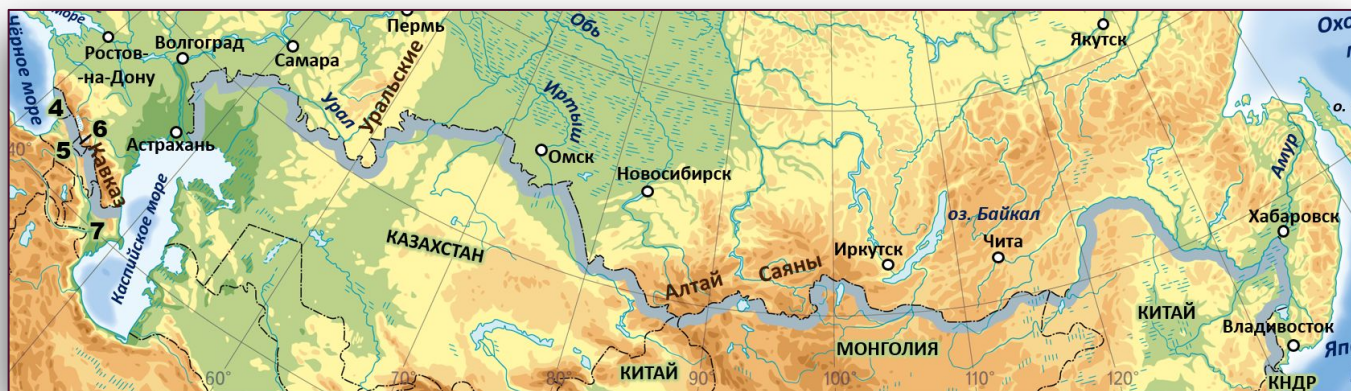
Сосед	Протяжённость границы, км	Природные объекты	
		Сухопутные	Водные
	_____	_____	_____
	_____	_____	_____

Сосед	Протяжённость границы, км	Природные объекты	
		Сухопутные	Водные
<hr/> 	<hr/>	<hr/> <hr/> <hr/> <hr/> <hr/>	<hr/> <hr/> <hr/> <hr/> <hr/>
<hr/> 	<hr/>	<hr/> <hr/> <hr/> <hr/> <hr/>	<hr/> <hr/> <hr/> <hr/> <hr/>
<hr/> 	<hr/>	<hr/> <hr/> <hr/> <hr/> <hr/>	<hr/> <hr/> <hr/> <hr/> <hr/>
<hr/> 	<hr/>	<hr/> <hr/> <hr/> <hr/> <hr/>	<hr/> <hr/> <hr/> <hr/> <hr/>
<hr/> 	<hr/>	<hr/> <hr/> <hr/> <hr/> <hr/>	<hr/> <hr/> <hr/> <hr/> <hr/>
<hr/> 	<hr/>	<hr/> <hr/> <hr/> <hr/> <hr/>	<hr/> <hr/> <hr/> <hr/> <hr/>

1.3. Ответьте на вопросы:

1. С каким государством на западе самая протяжённая граница?
2. На границе с каким государством, находится самая крайняя западная точка России? _____

2.1. Запишите названия южных соседей России. Поставьте цифру рядом с названием, которой они обозначены на карте.



















2.2. Заполните таблицу: “Южные соседи России”.

“Южные соседи России”

Сосед	Протяжённость границы, км	Природные объекты	
		Сухопутные	Водные
	<hr/>	<hr/> <hr/> <hr/> <hr/>	<hr/> <hr/> <hr/> <hr/>
	<hr/>	<hr/> <hr/> <hr/> <hr/>	<hr/> <hr/> <hr/> <hr/>



Сосед	Протяжённость границы, км	Природные объекты	
		Сухопутные	Водные
	_____	_____ _____ _____ _____	_____ _____ _____ _____
	_____	_____ _____ _____ _____	_____ _____ _____ _____
	_____	_____ _____ _____ _____	_____ _____ _____ _____
	_____	_____ _____ _____ _____	_____ _____ _____ _____
	_____	_____ _____ _____ _____	_____ _____ _____ _____
	_____	_____ _____ _____ _____	_____ _____ _____ _____

2.3. Ответьте на вопросы:

1. С каким государством на юге самая протяжённая граница?
2. На границе с каким государством, находится самая крайняя южная точка России? _____

3 3.1. Заполните таблицу: “Морские соседи России”.

“Морские соседи России”

Сосед	Протяжённость границы, км	Природные объекты
		Водные
	_____	_____ _____ _____ _____
	_____	_____ _____ _____ _____

4 4.1. Заполните таблицу: “Моря омывающие Россию”.

Моря омывающие Россию

Атлантический океан	Северный Ледовитый океан	Тихий океан
_____	_____	_____
_____	_____	_____
_____	_____	_____

5 5.1. Подпишите страны, соседи России.



1 – _____ 2 – _____ 3 – _____ 4 – _____