

Имя: _____ Дата: _____

Тема: _____



1

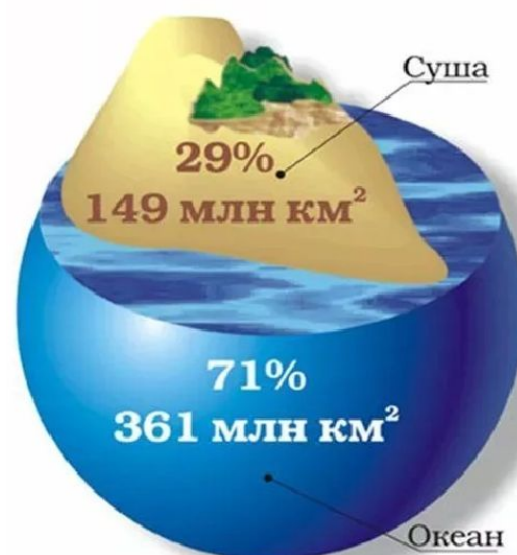
1.1. Заполните пропуски в тексте.

Самое большое количество воды сосредоточено в _____
— _____ % гидросферы. Площадь поверхности Земли составляет
примерно _____ (примем её за 100%). Площадь Мирового
океана составляет примерно _____, или _____ земной
поверхности, или _____ поверхности. Следовательно, Мировой океан —
это планетарный географический объект.

2

2.1. Запишите определение термина
“Мировой океан”.

Мировой океан - _____



3

3.1. Заполните схему: “Части Мирового океана”.

Части Мирового океана

Водные части



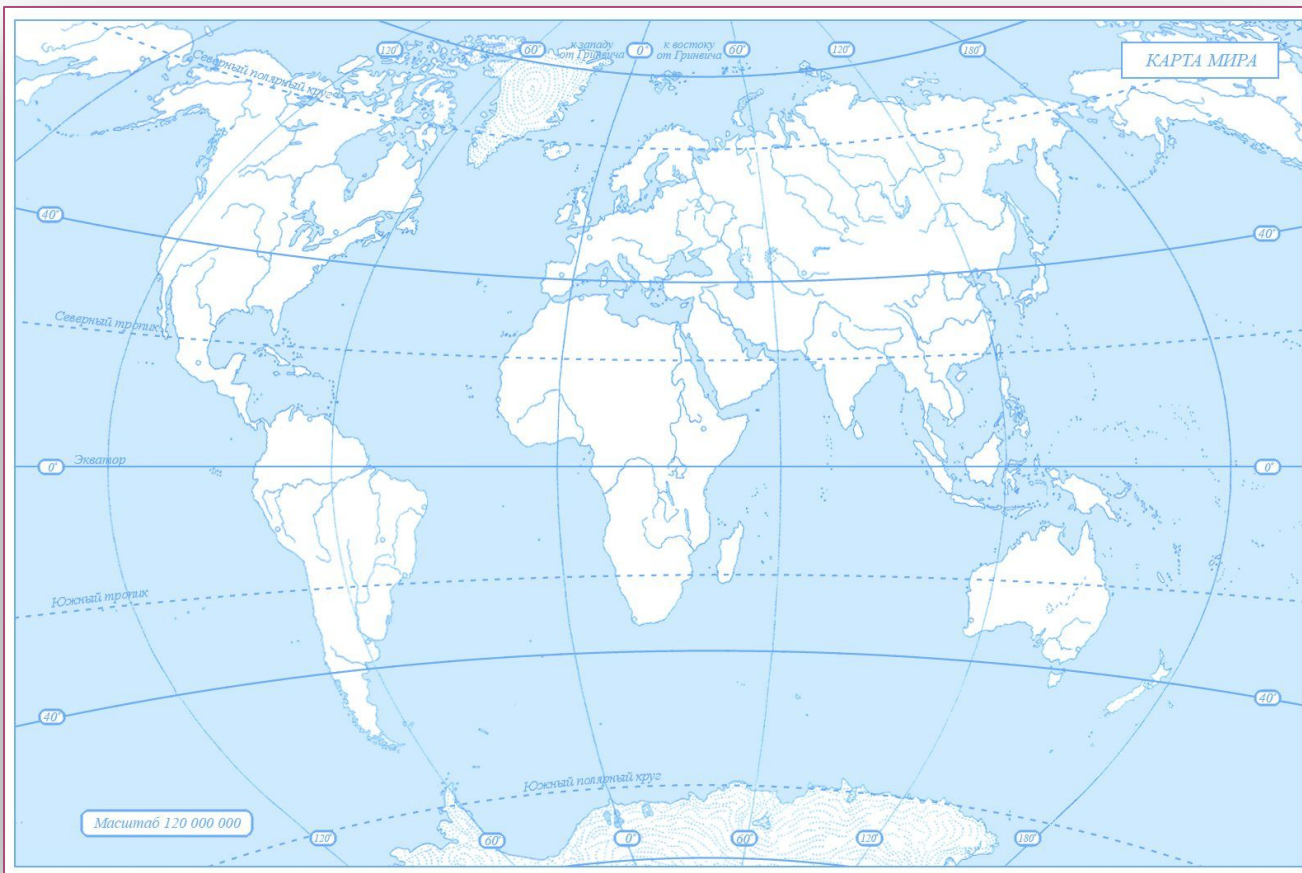
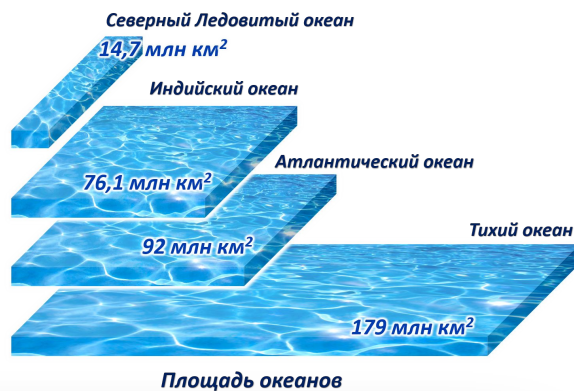
Суша в океана



4

4.1. Запишите определение термина “*океан*”. На контурной карте подпишите названия океанов.

Океан - _____



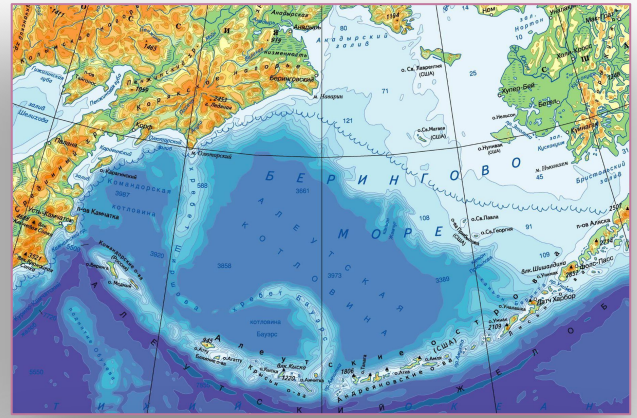
5

5.1. Запишите определение термина “*море*”. Заполните схему: “Виды морей”.

Море - _____

Виды морей

5.2. Определите типы морей: *межостровное, внутреннее, окраинное*.



6

6.1. Запишите определение термина “залив”. Заполните схему: “Виды заливов”.

Залив - _____

Виды заливов











7

7.1. Запишите определение термина “пролив”.

Пролив - _____

Самый широкий и глубокий пролив: _____

Самый длинный пролив: _____

Самые важные проливы: _____


8

8.1. Запишите определение термина “полуостров”.

Полуостров - _____

Небольшой полуостров часто называется _____.

8.2. Определите по космическому снимку название самого крупного полуострова планеты.




9

9.1. Запишите определение термина “полуостров”.

Полуостров - _____

_____ — коралловый остров, который имеет форму сплошного или разорванного кольца, окружающего лагуну небольшой глубины.



9.2. Определите по космическому снимку название самого крупного острова планеты.

10

10.1. Запишите определение термина “архипелаг”.

Архипелаг - _____

10.2. Определите по космическому снимку название архипелага.

