

Имя: \_\_\_\_\_


Дата: \_\_\_\_\_

Тема: \_\_\_\_\_



1

1.1. Подпишите фотографию древнегреческого учёного, которого считают *“отцом географии”*.



1.2. Что означает слово *“география”*?

*“гео”* - \_\_\_\_\_

*“графос”* - \_\_\_\_\_

*“география”* - \_\_\_\_\_

1.3. Запишите определение термина *“география”*.

География - \_\_\_\_\_

\_\_\_\_\_

\_\_\_\_\_

\_\_\_\_\_

\_\_\_\_\_

2

2.1. Заполните схему.

**География**

\_\_\_\_\_

\_\_\_\_\_

\_\_\_\_\_

\_\_\_\_\_

\_\_\_\_\_

\_\_\_\_\_

\_\_\_\_\_



\_\_\_\_\_

\_\_\_\_\_

\_\_\_\_\_

\_\_\_\_\_

\_\_\_\_\_



3

3.1. Запишите определение термина *“географический объект”*.

**Географический объект** - \_\_\_\_\_  
\_\_\_\_\_  
\_\_\_\_\_  
\_\_\_\_\_  
\_\_\_\_\_

3.2. Заполните схему.

**Географические объекты**

\_\_\_\_\_

\_\_\_\_\_

\_\_\_\_\_  
\_\_\_\_\_  
\_\_\_\_\_  
\_\_\_\_\_

\_\_\_\_\_  
\_\_\_\_\_  
\_\_\_\_\_  
\_\_\_\_\_

3.3. Распределите географические объекты по их видам.

А. \_\_\_\_\_

Б. \_\_\_\_\_

Река	Террикон	Карьер	Озеро	Каньон	Овраг

4

4.1. Запишите определение термина *“географический процесс”*. Выделите главное. Приведите примеры.

**Географический процесс** - \_\_\_\_\_  
\_\_\_\_\_  
\_\_\_\_\_  
\_\_\_\_\_

5

5.1. Запишите определение термина *“географические явления”*. Выделите главное. Приведите примеры.

**Географические явления** - \_\_\_\_\_  
\_\_\_\_\_  
\_\_\_\_\_  
\_\_\_\_\_